



4. The ball and socket joints makes the giraffe's neck \_\_\_\_\_  
 a) in awkward position  
 c) more stronger  
 b) move flexible  
 d) living land animals
5. Find words from the above passage that mean opposite to attached  
 (a) hind  
 (c) stiff  
 (b) detached  
 (d) narrow
6. Giraffe's loves to eat \_\_\_\_\_ leaves in their favourite diet.  
 a) Spinach  
 c) grass  
 b) Acacia  
 d) fruits
7. A giraffe's long neck is made up of \_\_\_\_\_  
 a) long neck bone  
 c) 11 vertebrae.  
 b) seven vertebrae.  
 d) socket joints
8. A giraffe spreads its front legs wide apart because \_\_\_\_\_  
 a) To reach water with such a long neck and legs.  
 c) To run faster.  
 b) To attack its enemy.  
 d) To fall on the ground.
9. Why does the giraffe, usually keep standing even while its sleeping?  
 a) because it is the tallest living land animal.  
 b) because it can spent time in resting and quarreling.  
 c) because they spend 80 per cent of the day eating.  
 d) because rising from a lying position is difficult.
10. The \_\_\_\_\_ makes it easy for the lion to attack the giraffe.  
 a) backward position  
 c) awkward position  
 b) scary position  
 d) sitting position

**II. Read the following passage and answer the following questions:**

**(1x10=10)**

Once there was a miser who sold all his possessions (property) and, with the money, bought a great lump of gold, dug a deep hole at the edge of the garden, and there he buried his gold. Once a day, thereafter, the miser went to the garden, dug up his gold, and embraced it lovingly. One of the miser's workmen wondered why his master spent so much time in the garden. One day, he hid behind a tree and soon discovered the secret of the hidden treasure.

That night, when the miser was fast asleep, the workman crept into the garden and stole the lump of gold. When the miser found that his gold was gone, he tore his hair and cried aloud in his despair. A neighbour came running to see what the matter was, and the grief-stricken miser told him what had happened. Then the neighbours said, "Pray to stop your weeping. Go and find a stone. Place the stone in the hole and imagine that it is your lump of gold. The stone will serve your purpose, for you never meant to use the gold anyway." "To a miser, what he has is of no more use than what he has not."



1. How did the miser get the lump of gold?
  - a. By selling all he had
  - b. While digging the garden?
  - c. From his ancestors
  - d. From his neighbour
  
2. The miser buried his gold \_\_\_\_
  - a. at the edge of the garden.
  - b. in his neighbour's house
  - c. in his house
  - d. at his workman's place
  
- 3: Why did miser spend so much time in the garden?
  - a. He was a nature lover.
  - b. He liked watching children playing in the garden.
  - c. To keep an eye on his hidden treasure.
  - d. To change the place of his lump of gold.
  
4. What did the miser's workmen find in the garden one day?
  - a. he discovered the secret of the hidden treasure.
  - b. he found the miser in the garden.
  - c. he found a stone in the garden
  - d. he found a thief in the garden.
  
- 5: By whom was the gold stolen?
  - a. A thief
  - b. his neighbour
  - c. The miser's workman
  - d. The miser himself.
  
6. Find a synonym of "sorrowful" from the above passage.
  - a. joyful
  - b. miser
  - c. grief-stricken
  - d. All of the above
  
7. When the miser found that his gold was gone, he \_\_\_\_
  - a. cried aloud in happiness.
  - b. ran around the garden.
  - c. cried aloud in despair.
  - d. Shared his joy with the neighbours.
  
- 8: The neighbour advised the miser to put a stone in the hole because \_\_\_\_\_.
  - a. Gold is like a stone only.
  - b. The miser would never use the gold, hence no difference between the two.
  - c. The stone will become gold after some time.
  - d. For a wise man, gold and stone have equal worth.
  
9. Antonym of the word 'crept' from the above passage is \_\_\_\_
  - a. Move quickly
  - b. talk slowly
  - c. hide slowly
  - d. run slowly
  
- 10: Choose the most appropriate title for this story.
  - a. Gold and Stone
  - b. The Miser and his Gold



c. The Miser and his friend

d. The Miser and his garden

Section B: Writing and Grammar

III. Write an informal letter to your friend expressing or sharing your excitement on your recent trip. (5)

IV. Write a short story giving a title and the moral, based on the given picture clues, using your creative ideas: (5)



V a). Rewrite the sentence using the correct word from the given brackets: (1x2=2)

1. What (attracted / attracting) me most to the job was the chance to travel.

2. Sara is the (more talkative/ most talkative) girl in her family.

b) Use a, an or the to fill in the blanks: (½x4=2)

Mr. John got \_\_\_\_\_ phone call, that Sam's cat was stuck on the tree. He showed \_\_\_\_\_ cat \_\_\_\_\_ egg, and \_\_\_\_\_ cat came down.

c) Complete the following passage with suitable pronouns: (½x4=2)

I am so excited for Halloween. \_\_\_\_\_ (it/ they/them) is an interesting day. My friends love them too. \_\_\_\_\_ (ours/us/they) dress up and come over to \_\_\_\_\_ (my/they/them) house every year. We feel scary looking at \_\_\_\_\_ (themselves/ourselves/itself) in the mirror. My mother makes delicious food on that day.



d) Write the correct type of nouns for the underlined words in the passage given below:  
For example family- common noun (1x4=4)

During the holidays, my family took me to the zoo. There the zoo keeper showed us different types of birds with its glorious colours, we went on a lion safari. We saw a pride of lions, who lay quietly in the forest. Uncle Zozo called the lion close to him. I admired his bravery.

### Section C: Literature

VI.a) Read the extract given below and answer the following questions: (1x5=5)

"I must get a special wind to fly my kite. I'll go to the Keeper- of -the -winds.  
She will let me have the perfect wind to make my kite fly really high."

1. Name the lesson from which the extract is taken from.

- a) The Invention of shoes.
- b) A rupee goes a long way.
- c) Maui's kite.
- d) Ivan's story.

2) Who is the person flying the kite in the lesson?

- a) the keeper of the wind.
- b) the wise old woman.
- c) Maui's friend.
- d) Maui the teacher of the wind.

3) Why is the speaker saying the above lines?

- a) The speaker wanted a special wind to fly his kite.
- b) The speaker wanted to have fun with his friends.
- c) The speaker wanted to control the village.
- d) The speaker wanted to make a kite.

4) Who went with the speaker to fly the kite?

- a) the keeper of the winds.
- b) Maui's friends.
- c) some men in the field.
- d) group of women.

5) Give the opposite of perfect.

- a) imported
- b) imperfect
- c) important
- d) immature

b) Read the poem extract given below and answer the following questions: (1x5=5)

He stalks in his vivid stripes  
The few steps of his cage,  
On pads of velvet quiet,  
In his quiet rage.

1. Name the poet of the poem "Tiger"

- a) Ruskin Bond
- b) Eleanor Farjeon
- c) Leslie Norris
- d) Karla Kuskin

2) Where is the tiger captured?

- a) It was in the forest
- b) It was in the cage
- c) It was in the den.
- d) It was in the pit.

3) Why do tigers have velvet padded feet?





SINDHI HIGH SCHOOL , BANGALORE  
HALF YEARLY EXAMINATION 2023-24  
SUBJECT- ADDITIONAL HINDI

DATE: 6-10-2023

CLASS : 5

No. of sides:- 7

MAX. MARKS : 80

TIME : 2 HR 30 min

Reading time :- 8am to 8:15 am

Writing time :- 8:15 am to 10:45 am

सामान्य निर्देश-

- \* इस प्रश्न पत्र के चार खंड हैं - क ख ग घ
- \* सभी प्रश्नों के उत्तर क्रमानुसार लिखिए -
- \* सभी खंडों के सभी प्रश्नों के उत्तर देना अनिवार्य है।

खंड - क

I. निम्नलिखित अनुच्छेद ध्यानपूर्वक पढ़कर सही विकल्प चुनकर लिखिए :- 5  
किसी तालाब में एक बातूनी कछुआ रहता था। उसी तालाब के किनारे दो हंस भी रहते थे। वे तीनों आपस में मित्र थे। एक बार गरमी के मौसम में तालाब का पानी सूखने के कारण हंस दूसरे तालाब पर उड़कर जाने के लिए तैयार हो गए। कछुआ भी तैयार था, लेकिन उसे ले जाने की समस्या थी। कछुए ने उपाय बताया कि दोनों हंस अपनी चोंच में एक लकड़ी के सिरों को पकड़ लेंगे और वह उस लकड़ी को अपने मुँह से पकड़ लेगा, जिससे तीनों मित्र एक साथ एक ही तालाब पर रहेंगे। हंसों ने कहा कि उपाय तो अच्छा है, लेकिन बातूनी होने के कारण तुम रास्ते में बात न करने लगना नहीं तो तुम नीचे गिरकर मर जाओगे। कछुए ने कहा कि वह मूर्ख नहीं है वह अपने पैर पर स्वयं कुल्हाड़ी क्यों मारेगा? योजनानुसार वे उड़ गए। रास्ते में कुछ लोगों की बात सुनकर कछुआ बोल पड़ा और नीचे गिरकर अपनी जान खो बैठा। हमें कभी भी फालतू बातों में न पड़कर अपने लक्ष्य की तरफ ही ध्यान देना चाहिए।

1. तीन मित्र कौन-कौन थे?

- (क) दो हंस एक कछुआ (ख) कछुआ और हंस  
(ग) एक हंस (घ) एक कछुआ

2. किसे दूसरे तालाब में जाने की समस्या थी?

- (क) हंसों को (ख) कछुए को  
(ग) लोगों को (घ) सभी को

3. तालाब सूख गया, क्योंकि:

- (क) बहुत गरमी थी (ख) बहुत सरदी थी  
(ग) बहुत वर्षा थी (घ) उपर्युक्त में से कोई नहीं

4. हंसों ने कहा कि उपाय तो अच्छा है, पर:

- (क) तुम बातूनी होने के कारण रास्ते में बात नहीं करना  
(ख) तुम चालाक होने के कारण रास्ते में बात नहीं करना



(ग) तुम मूर्ख होने के कारण रास्ते में बात नहीं करना  
(घ) तुम बुद्धिमान होने के कारण रास्ते में बात नहीं करना

5. अपने पैर पर स्वयं कुल्हाड़ी मारने का अर्थ है:

(क) अपना नुकसान स्वयं करना (ख) अपना फ़ायदा करना  
(ग) अपना कार्य स्वयं करना (घ) स्वयं कुल्हाड़ी मारना

II. निम्नलिखित अनुच्छेद ध्यानपूर्वक पढ़कर सही विकल्प चुनकर लिखिए :-  
जल और जीवन का आपस में गहरा संबंध है। बड़े-बड़े नगर नदियों के किनारे ही बसे हुए हैं। आजकल मनुष्य नदियों और झीलों में तैरकर अपना मनोरंजन करता है। प्राचीन काल में मनुष्य तैरकर ही नदियों को पार करता था। तैराकी अपने आप में कला के साथ-साथ अच्छा व्यायाम भी है। आजकल तैराकी के कई प्रकार प्रचलित हैं ?

(1) जल और जीवन का आपस में कैसा संबंध है ?

(क) गहरा (ख) कच्चा  
(ग) पक्का (घ) सच्चा

(2) बड़े-बड़े नगर कहाँ बसे हुए हैं ?

(क) समुद्र के किनारे (ख) नदियों के किनारे  
(ग) मैदानों के किनारे (घ) पहाड़ के नीचे है

(3) प्राचीन का विलोम शब्द है-

(क) नवीन (ख) अचीन  
(ग) पुराना (घ) पुरा

(4) 'तैराकी' शब्द का वर्ण विच्छेद है-

(क) त्+ऐ+र्+आ+क+ई (ख) त्+रा+क्+ई+की  
(ग) त्+ए+र्+अ+क्+इ (घ) त्+र्+क्+इ

(5) तैराकी अपने आप में क्या है ?

(क) व्यायाम (ख) कला और व्यायाम  
(ग) मनोरंजन (घ) शौक

खंड ख

III. पर्यायवाची शब्द लिखिए :-

(क) कमल (ख) गर्व  
(ग) सूर्य (घ) नौका

IV. विलोम शब्द लिखिए :-

(क) सुंदर

(ग) होशियार

(ख) पुरस्कृत

(घ) दुष्परिणाम

2

V. अनेक शब्दों के दो-दो अर्थ लिखिए :-

(क) काल = \_\_\_\_\_

(ख) पर = \_\_\_\_\_

2

VI. मुहावरों के अर्थ लिखिए :-

(क) आँखों में तितलियाँ उड़ना -

(ख) रोएँ खड़े होना -

2

VII. अनेक शब्दों के लिए एक शब्द लिखिए :-

(क) जिसके आने की कोई तिथि न हो -

(ख) पेड़ की शाखा का अग्रभाग

2

VIII. सही विशेषण शब्द चुनकर लिखिए :- ( नादान , मधुर , तेज़ , दीन )

(क) \_\_\_\_\_ तलवार

(ख) \_\_\_\_\_ बालक

(ग) \_\_\_\_\_ सपना

(घ) \_\_\_\_\_ अवस्था

2

IX. दिए गए शब्दों को जोड़कर लिखिए :-

(क) मिल + आवट =

(ख) प्रेम + पूर्वक =

2

X. वचन बदलकर लिखिए :-

(क) लड़का

(ख) नौका

(ग) गाड़ी

(घ) अध्यापिका

2

XI. संयुक्त व्यंजन से दो-दो शब्द बनाइए :-

(क) क्य = \_\_\_\_\_

(ख) स्त = \_\_\_\_\_

2

XII. तत्सम शब्दों के तद्भव रूप लिखिए :-

(क) मस्तक =

(ख) अंधकार =

2



(ग) दीपक =

(घ) कर्म =  
खंड ग

XIII. निम्नलिखित पद्यांश पढ़कर सही विकल्प चुनकर लिखिए :-

5

ज्यों निकलकर बादलों की गोद से  
थी अभी एक बूँद कुछ आगे बढ़ी,  
सोचने फिर-फिर यही जी में लगी  
आह ! क्यों घर छोड़कर मैं यो कड़ी।

बह गई उस काल एक ऐसी हवा  
वह समुंदर ओर आई अनमनी,  
एक सुंदर सीप का मुँह धा खुला  
वह उसी में जा पड़ी, मोती बनी।

1. हवा के साथ बूँद किस ओर आई  
(क) समुंदर की ओर (ख) नदी की ओर (ग) शहर की ओर (घ) गाँव की ओर
2. किसका मुँह खुला था ?  
(क) फूल का (ख) सीप का (ग) बादल का (घ) पेड़ का
3. अंत में बूँद क्या बन जाती है ?  
(क) फूल (ख) बादल (ग) मोती (घ) सीप
4. "बूँद" को किस बात का दुख हो रहा था ?  
(क) बूँद बनने का (ख) बादल बनने का  
(ग) घर छोड़ने का (घ) नदी में जा मिलने का
5. बूँद किस की गोद से निकलकर आगे बढ़ी ?  
(क) माँ की (ख) बादल की (ग) धरती की (घ) समुंदर की

XIV. निम्नलिखित गद्यांश पढ़कर सही विकल्प चुनकर लिखिए :-

5

सभी व्यक्ति न्यायप्रिय नहीं होते, न ही सब सच बोलते हैं। यह तो मेरा बेटा कभी न कभी सीख ही लेगा, पर उसे यह अवश्य सिखाएँ कि अगर दुनिया में बदमाश लोग होते हैं, तो अच्छे, नेक इंसान भी होते हैं। अगर स्वार्थी राजनीतिज्ञ होते हैं, तो जनता के हित में काम करने वाले देश प्रेमी भी होते हैं। उसे यह भी सिखाएँ कि अगर दुश्मन होते हैं, तो दोस्त भी

होते हैं। मुझे पता है इसमें समय लगेगा, परंतु हो सके तो उसे यह जरूर सिखाएँ कि मेहनत से कमाया एक पैसा भी बुरे कार्य से मिले पैसों से कहीं अधिक मूल्यवान होता है।

1. दुनिया में बदमाश लोगों के अलावा और किस तरह के लोग होते हैं ?  
(क) स्वार्थी (ख) समझदार (ग) नेक (घ) धोखेबाज
2. सभी व्यक्ति क्या नहीं होते हैं ?  
(क) न्यायप्रिय (ख) देश प्रेमी (ग) परिश्रमी (घ) हिम्मतवाला
3. स्वार्थी कौन होते हैं ?  
(क) देश प्रेमी (ख) दुश्मन (ग) राजनीतिज्ञ (घ) दोस्त
4. किस तरह का पैसा मूल्यवान होता है ?  
(क) मेहनत का (ख) बुरे कामों का  
(ग) चुराया हुआ (घ) किसी से छीना हुआ
5. जनता के हित में काम करनेवाले कौन होते हैं  
(क) देशप्रेमी (ख) देशद्रोही  
(ग) राजनीतिज्ञ (घ) दोस्त

10

XV. प्रश्नों के सही विकल्प चुनकर लिखिए :-

1. गड़रिए का लड़का जंगल में किसकी तलाश कर रहा था ?  
(क) शेर की (ख) गाय की (ग) भेड़ की (घ) बकरी की
2. लड़के ने कहाँ रात काटने का निश्चय किया ?  
(क) पेड़ पर (ख) छत पर (ग) ज़मीन पर (घ) सड़क पर
3. ओणम का कौन-सा दिन सबसे महत्त्वपूर्ण होता है ?  
(क) पहला (ख) दूसरा (ग) तीसरा (घ) चौथा
4. प्राचीन काल में राजा महाबलि का शासन कहाँ पर था ?  
(क) केरल में (ख) तमिलनाडु में (ग) नेपाल में (घ) कर्नाटक में
5. मालवजी के पिता जी किसकी सेना में काम करते थे ?  
(क) शिवाजी की (ख) मुगलों की (ग) महाराणा प्रताप की (घ) अकबर की



6. शिवाजी की जान किसने बचाई ?

(क) अंगरक्षक ने (ख) दरबान ने (ग) तानाजी ने (घ) यवन ने

7. रात्रि में अंधकार का नाश कौन करता है ?

(क) सूरज (ख) दीया (ग) सितारे (घ) चाँद

8. संसार में किसका दुष्परिणाम होता है ?

(क) सम्मान का (ख) स्वाभिमान का (ग) अहंकार का (घ) अंधकार का

9. प्रभु क्या नहीं खाता था ?

(क) चाऊमीन (ख) सलाद, फ्रूट चाट (ग) बर्गर (घ) पिज्जा

10. हर बार बीमार कौन होता है ?

(क) पदमा (ख) प्रभु (ग) प्रभा (घ) विशाल

XVI. प्रश्नों के उत्तर लिखिए :-

10

1. पद्मा को कभी पेट दर्द क्यों नहीं हुआ ?

2. प्रभु के पापा को बॉस के साथ कहाँ जाना था ?

3. अभिमान किसे हो गया था ?

4. दीये का सिर नीचा कैसे हुआ ?

5. मालवजी किस पर वार करने के लिए हाथ उठाता है ?

6. कौन मालवजी का हाथ पकड़ लेता है ?

7. ओणम किस राज्य का विशेष त्योहार है ?

8. सर्पनौका -दौड़ प्रतियोगिता कहाँ आयोजित की जाती है ?

9. शेर अकसर कहाँ रहता है ?

10. झरने के पास कितने आदमी थे ?

खंड घ

XVII. प्रधानाचार्य से चार दिन की छुट्टी माँगते हुए अवकाश पत्र लिखिए।

5

XVIII. दिए गए विषय पर अनुच्छेद लिखिए :-

5

“ प्रिय खेल ”

XIX. दिए गए चित्र के बारे में 5-6 वाक्य लिखिए :-

5



XX. दिए गए शब्दों की सहायता से कहानी पूरी कीजिए :-  
( गरीब, परी, लकड़ियाँ, डुबकी, चाँदी, कुल्हाड़ी, तोहे, उपहार, धन्यवाद, मुस्कुराते )

5



ईमानदार लकड़हारा

एक \_\_\_\_\_ लकड़हारा नदी किनारे लगे पेड़ से \_\_\_\_\_ काट रहा था लकड़ी काटते हुए अचानक उसकी \_\_\_\_\_ नदी में गिर गई। बेचारा लकड़हारे बहुत दुखी और परेशान हो गया, क्योंकि उसके पास दूसरी कुल्हाड़ी खरीदने के लिए कोई पैसा नहीं था।

तभी एक \_\_\_\_\_ नदी में दिखाई दी, जिसके हाथ में सोने की एक कुल्हाड़ी थी। लकड़हारे के पास आकर बोली "मुझे नदी में यह कुल्हाड़ी मिली, क्या यह तुम्हारी है? यह मेरी नहीं है, लकड़हारे ने उत्तर दिया।

परी ने नदी में \_\_\_\_\_ लगाई और एक \_\_\_\_\_ की कुल्हाड़ी हाथ में लेकर फिर पूछा "क्या यह तुम्हारी है?" लकड़हारा ने सर हिला, मना कर दिया।

फिर दुबारा नदी से परी ने \_\_\_\_\_ की कुल्हाड़ी निकाली, तो खुशी से \_\_\_\_\_ हुए लकड़ी काटने वाला ने कहा - "यह मेरी है, बहुत-बहुत \_\_\_\_\_। लकड़हारे की ईमानदारी को देख परी बहुत खुश हुई। उसने लकड़हारे को तीनों कुल्हाड़ी \_\_\_\_\_ में दे दी।

XXXXXX





SINDHI HIGH SCHOOL, BENGALURU  
HALF YEARLY EXAMINATION -(2023-24)  
SUBJECT: L2 KANNADA

Class: V

Max. Marks: 80

Date: 10/10/23

Reading Time: 8:00am to 8:15am

No of Printed Sides: 11

Writing Time: 8.15am to 10.45am

ಸೂಚನೆಗಳು:

- ಪತ್ರಿಕೆಯು ಭಾಗ ಎ ಮತ್ತು ಭಾಗ ಬಿ ಎಂಬ ಎರಡು ಭಾಗಗಳನ್ನು ಒಳಗೊಂಡಿರುತ್ತವೆ.
- ಪ್ರಶ್ನೆ ಪತ್ರಿಕೆಯಲ್ಲಿ ಒಟ್ಟು ೧೪ ಮುಖ್ಯ ಪ್ರಶ್ನೆಗಳಿರುತ್ತವೆ.
- ಪ್ರತಿಯೊಂದು ಪ್ರಶ್ನೆಗಳ ಸೂಚನೆಗಳನ್ನು ಸರಿಯಾಗಿ ಓದಿಕೊಂಡು ಉತ್ತರಿಸಿ.
- ಪ್ರಶ್ನೆ ಮತ್ತು ಉಪಪ್ರಶ್ನೆಗಳ ಸಂಖ್ಯೆಯನ್ನು ತಪ್ಪಿಲ್ಲದೆ ಬರೆಯಿರಿ.

ಭಾಗ- ಎ (೪೦ ಅಂಕಗಳು)	ವಾಚನ ಮತ್ತು ಗ್ರಹಿಕಾ ಕೌಶಲ್ಯ ಅನ್ವಯಿಕ ವ್ಯಾಕರಣ ಬಹು ಆಯ್ಕೆಯ ಪ್ರಶ್ನೆ-ಪಠ್ಯಗಳ ಅಧ್ಯಯನ	೨೦ ಅಂಕಗಳು ೧೫ ಅಂಕಗಳು ೫ ಅಂಕಗಳು
ಭಾಗ-ಬಿ (೪೦ ಅಂಕಗಳು)	ಬರವಣಿಗೆಯ ಕೌಶಲ್ಯ ಪಠ್ಯಗಳ ಅಧ್ಯಯನ ಒಟ್ಟು ಅಂಕಗಳು	೧೨ ಅಂಕಗಳು ೨೮ ಅಂಕಗಳು ೮೦ ಅಂಕಗಳು

ಭಾಗ- ಎ

(ವಾಚನ ಮತ್ತು ಗ್ರಹಿಕಾ ಕೌಶಲ್ಯ) = ೧೦ ಅಂಕಗಳು

1. ಕೆಳಗಿನ ಗದ್ಯವನ್ನು ಓದಿಕೊಂಡು, ಕೊಟ್ಟಿರುವ ಬಹು ಆಯ್ಕೆಯ ಪ್ರಶ್ನೆಗಳಿಗೆ ಉತ್ತರಿಸಿ. 1x5=5

ಗುಬ್ಬಚ್ಚಿ ಒಂದು ಪುಟ್ಟ ಹಕ್ಕಿ.ನೋಡಲು ಮುದ್ದಾದ ಹಕ್ಕಿ ಕೇವಲ ಹದಿನೈದು ಸೆಂಟಿಮೀಟರ್ ಅಥವಾ ಅರು ಇಂಚು ಉದ್ದವುಳ್ಳ ಈ ಪಕ್ಷಿ ಸದಾ ಸಂಘಜೀವಿ ಒಂಟಿಯಾಗಿ ಬದುಕದೇ ಗುಂಪು ಗುಂಪಾಗಿ ಬೆಳೆಯುತ್ತದೆ. ಈ ಹಕ್ಕಿಗಳಲ್ಲಿ ಹೆಣ್ಣು ಹಕ್ಕಿಗಿಂತ ಗಂಡು ಹಕ್ಕಿ ಹೆಚ್ಚು ಮುಖ್ಯವಾಗಿ ಕಾಣುತ್ತದೆ. ಈ ಪಕ್ಷಿಯು ನಮ್ಮ ದೇಶದ ಎಲ್ಲೆಡೆ ಕಾಣ ಸಿಗುವ ಈ ಹಕ್ಕಿಗಳು ನಗರ ಮತ್ತು ಹಳ್ಳಿಗಳೆರಡೂ ಪ್ರದೇಶಗಳಲ್ಲಿ ವಾಸಿಸುತ್ತವೆ. ಈ ಪಕ್ಷಿಯನ್ನು ವಿಶ್ವದ ಜನರೆಲ್ಲರೂ ಸೇರಿ ಮಾರ್ಚ್ ೨೦ ರಂದು 'ವಿಶ್ವ ಗುಬ್ಬಚ್ಚಿ ದಿನವನ್ನಾಗಿ ಆಚರಿಸುತ್ತಾರೆ.

ಈ ಪಕ್ಷಿಗಳು ಸಸ್ಯಾಹಾರ ಮತ್ತು ಮಾಂಸಾಹಾರ ಎರಡನ್ನು ಸೇವಿಸುತ್ತವೆ. ಗುಬ್ಬಚ್ಚಿಗಳ ಚಿಲಿಪಿಲಿ ಕಲರವ ಎಲ್ಲರಿಗೂ ಪ್ರಿಯವಾಗುತ್ತದೆ. ಸಾಮಾನ್ಯವಾಗಿ ಗುಬ್ಬಚ್ಚಿಗಳು ಕಲ್ಲುಪೊಟರೆಗಳಲ್ಲಿ, ಮಾಳಿಗೆ ಮನೆಗಳಲ್ಲಿ ಪುಟ್ಟದಾಗಿ ಗೂಡು ಕಟ್ಟಿಕೊಂಡು ವಾಸ ಮಾಡುತ್ತವೆ. ಚಿಕ್ಕ ಚಿಕ್ಕ ಮರದ ಕಡ್ಡಿಗಳು ಮೆತ್ತಿಗಿನ ಹತ್ತಿನಾರು ಮುಂತಾದ ಪದಾರ್ಥಗಳಿಂದ ಗೂಡುಕಟ್ಟಿ ಬೆಚ್ಚಗೆ ಮಾಡಿಕೊಂಡು ವಾಸ ಮಾಡುತ್ತವೆ. ಗೋದಿ, ಜೋಳ, ದವಸಧಾನ್ಯ, ಕಾಳುಗಳು, ಕ್ರಿಮಿಕೀಟಗಳನ್ನು ತಿಂದು ಬದುಕುತ್ತವೆ. ಈ ಪುಟ್ಟ ಹಕ್ಕಿಗಳ ಸಂಖ್ಯೆ ಇತ್ತೀಚೆಗೆ ಕಡಿಮೆಯಾಗುತ್ತಿದೆ. ಇಂತಹ ಪಕ್ಷಿ ಸಂಕುಲವನ್ನು ರಕ್ಷಿಸುವುದು ನಮ್ಮೆಲ್ಲರ ಕರ್ತವ್ಯವಾಗಿದೆ.

**ಪ್ರಶ್ನೆಗಳು:**

೧. ಗುಬ್ಬಚ್ಚಿಗಳ ಈ ಕಲರವ ಎಲ್ಲರಿಗೂ ಪ್ರಿಯವಾಗುತ್ತದೆ.

ಅ) ಕ್ರೋಕ್ ಕ್ರೋಕ್ ಆ) ಕಾವ್ ಕಾವ್ ಇ) ಚಿಲಿಪಿಲಿ ಈ) ಕುಹೂಕುಹೂ

೨. ಗುಬ್ಬಚ್ಚಿ ಒಂದು .....

ಅ) ದೊಡ್ಡಹಕ್ಕಿ ಆ) ದಪ್ಪಹಕ್ಕಿ ಇ) ಪುಟ್ಟಹಕ್ಕಿ ಈ) ಸಣಕಲುಹಕ್ಕಿ

೩. ಹೆಣ್ಣು ಹಕ್ಕಿಗಿಂತ ಈ ಹಕ್ಕಿಯು ಹೆಚ್ಚು ಪ್ರಧಾನವಾಗಿ ಕಾಣುತ್ತದೆ.

ಅ) ಮೈನಾ ಆ) ಬೆಳ್ಳಕ್ಕಿ ಇ) ಗಂಡು ಈ) ಮಿಂಚುಹುಳ



೪. ಈ ಹಕ್ಕಿಗಳು ಸಾಮಾನ್ಯವಾಗಿ ಇಲ್ಲಿ ವಾಸ ಮಾಡುತ್ತದೆ.

ಅ) ಕಲ್ಲು-ವೊಟರೆ ಆ) ಬೆಟ್ಟ-ಗುಡ್ಡ ಇ) ಗಿಡ-ಮರ ಈ) ನದಿ-ಸಮುದ್ರ

೫. 'ವಿಶ್ವ ಗುಬ್ಬಿ ದಿನ'ವನ್ನು ಈ ದಿನದಂದು ಆಚರಿಸುತ್ತಾರೆ....

ಅ) ಮಾರ್ಚ್-೫ ಆ) ಮಾರ್ಚ್-೧೦ ಇ) ಮಾರ್ಚ್-೨೦ ಈ) ಮಾರ್ಚ್-೩೦

II. ಕೆಳಗಿನ ಗದ್ಯವನ್ನು ಓದಿಕೊಂಡು, ಕೊಟ್ಟಿರುವ ಬಹುಆಯ್ಕೆಯ ಪ್ರಶ್ನೆಗಳಿಗೆ ಉತ್ತರಿಸಿ.

1x5=5

ಬೆಂಗಳೂರು ಕರ್ನಾಟಕ ರಾಜ್ಯದ ರಾಜಧಾನಿ. ಈ ನಮ್ಮ ನಗರವು 'ಉದ್ಯಾನನಗರಿ' ಎಂದು ಪ್ರಸಿದ್ಧವಾಗಿದೆ ಲಾಲ್ ಬಾಗ್ ಸಸ್ಯತೋಟವು 'ಉದ್ಯಾನಗಳ ರಾಣಿ' ಎಂದು ಕರೆಯಲ್ಪಡುತ್ತದೆ. ರಾಷ್ಟ್ರಕವಿ ಕುವೆಂಪು ಅವರಂತೂ ಇದರ ಸೌಂದರ್ಯಕ್ಕೆ ಮನಸೋತು 'ಸಸ್ಯಕಾಶಿ' ಎಂದು ಕರೆದಿದ್ದಾರೆ. ಲಾಲ್ ಬಾಗ್ ಅನ್ನು ಹೈದರಾಲಿ ನಿರ್ಮಿಸಿದನೆಂದು ಇತಿಹಾಸದಿಂದ ತಿಳಿದು ಬರುತ್ತದೆ. ಹಿಂದಿಯಲ್ಲಿ ಲಾಲ್ ಎಂದರೆ ಕೆಂಪು. ಬಾಗ್ ಎಂದರೆ ತೋಟ ಕೆಂಪುಗುಲಾಬಿ ಹೂಗಳಿಂದ ಕಂಗೊಳಿಸುವ ಈ ಉದ್ಯಾನವನವು ಬಹಳ ಸುಂದರವಾಗಿದೆ.

ಹೈದರಾಲಿಯು ತನ್ನ ಆಡಳಿತದ ಅವಧಿಯಲ್ಲಿ ದಹಲಿ, ಲಾಹೋರ್, ಮುಲ್ತಾನ್ ಮೊದಲಾದ ಕಡೆಗಳಿಂದ ವಸ್ತುಗಳನ್ನು ತರಿಸಿ ಇದನ್ನು ಮೊಘಲ್ ಶೈಲಿಯಲ್ಲಿ ಅಭಿವೃದ್ಧಿಪಡಿಸಿದರು. ಲಾಲ್ ಬಾಗಿನ ಮತ್ತೊಂದು ಆಕರ್ಷಣೆ ಗಾಜಿನಮನೆ ಇದನ್ನು ಲಂಡನ್ ನ 'ಕ್ರಿಸ್ಟಲ್ ಪ್ಯಾಲೆಸ್' ಮಾದರಿಯಲ್ಲಿ ನಿರ್ಮಿಸಲಾಗಿದೆ. ಇಲ್ಲಿ ಸ್ನಾತಂತ್ರ್ಯ ದಿನಾಚರಣೆ ಹಾಗೂ ಗಣರಾಜ್ಯೋತ್ಸವದ ಅಂಗವಾಗಿ ಫಲ ಪ್ರದರ್ಶನವನ್ನು ಏರ್ಪಡಿಸಲಾಗುತ್ತದೆ. ಲಾಲ್ ಬಾಗಿನಲ್ಲಿ ವೈವಿಧ್ಯಮಯ ಸಸ್ಯರಾಶಿಯಲ್ಲದೇ ಕೆಂಪೆಗೌಡರು ತಮ್ಮ ದೂರದೃಷ್ಟಿಯ ಸಂಕೇತವಾಗಿ ನಿರ್ಮಿಸಿದ ನಾಲ್ಕುಗೋಪುರ, ಪುಷ್ಪ ಗಡಿಯಾರ, ತಾವರೆಕೊಳ, ಕೆರೆ, ವಾದ್ಯಮಂಟಪ, ಜಪಾನಿ ಮಾದರಿಯ ಉದ್ಯಾನಗಳು ಇವೆ. ಹುಲ್ಲುಹಾಸು, ಕಾರಂಜಿ, ಹಳೆಯ ಬಂಡೆಯಿದೆ. ಆದ್ದರಿಂದ ಇವೆಲ್ಲವನ್ನು ರಕ್ಷಿಸುವುದು ನಮ್ಮೆಲ್ಲರ ಕರ್ತವ್ಯವಾಗಿದೆ.

**ಪ್ರಶ್ನೆಗಳು:**

೧. ಗಾಜಿನ ಮನೆಯನ್ನು ಈ ಮಾದರಿಯಲ್ಲಿ ನಿರ್ಮಿಸಲಾಗಿದೆ.....

- ಅ) ಗೋಲ್ಡನ್ ಪ್ಯಾಲೆಸ್  
ಆ) ಸಿಲ್ವರ್ ಪ್ಯಾಲೆಸ್  
ಇ) ಕ್ರಿಸ್ಟಲ್ ಪ್ಯಾಲೆಸ್  
ಈ) ಡೈಮೆಂಡ್ ಪ್ಯಾಲೆಸ್

೨. ಬೆಂಗಳೂರು ನಗರ ಹೀಗೆಂದು ಪ್ರಸಿದ್ಧವಾಗಿದೆ.....

- ಅ) ಅರಮನೆಗಳ ನಗರ ಆ) ಬೆಣ್ಣೆನಗರಿ ಇ) ಉದ್ಯಾನನಗರಿ ಈ) ಪಿಂಕ್ ಸಿಟಿ

೩. ರಾಷ್ಟ್ರಕವಿ ಕುವೆಂಪು ಲಾಲ್ ಬಾಗ್‌ನ ಸೌಂದರ್ಯಕ್ಕೆ ಮನಸೋತು ಇಟ್ಟಿರುವ ಹೆಸರಿದು.....

- ಅ) ಗುಪ್ತಕಾಶಿ ಆ) ಉತ್ತರಕಾಶಿ ಇ) ದಕ್ಷಿಣ ಕಾಶಿ ಈ) ಸಸ್ಯಕಾಶಿ

೪. ಈ ಸುಂದರವಾದ ಲಾಲ್ ಬಾಗ್‌ನ್ನು ನಿರ್ಮಿಸಿದ್ದು.....

- ಅ) ಅಕ್ಬರ್ ಆ) ಆದಿಲ್ ಶಾಹಿ ಇ) ಟಿಪ್ಪುಸುಲ್ತಾನ್ ಈ) ಹೈದರಾಲಿ

೫. ಕರ್ನಾಟಕದ ರಾಜಧಾನಿ.....

- ಅ) ಮೈಸೂರು ಆ) ದಾವಣಗೆರೆ ಇ) ಬೆಂಗಳೂರು ಈ) ಮಡಿಕೇರಿ

**III. ಕೆಳಗಿನ ಪಠಿತ ಗದ್ಯ 'ನನ್ನ ದೇಶ-ನನ್ನ ಜನ' ಪಾಠವನ್ನು ಓದಿಕೊಂಡು, ಕೊಟ್ಟಿರುವ ಬಹು ಆಯ್ಕೆ ಪ್ರಶ್ನೆಗಳಿಗೆ ಉತ್ತರಿಸಿ. 1x5=5**

ನಮ್ಮ ದೇಶ ಭಾರತ.ನಾವು ಭಾರತೀಯರು. ಇದೊಂದು ಉಪಖಂಡವೂ ಅಹುದು. ಮೂರು ಕಡೆ ಸಮುದ್ರ. ಒಂದು ಕಡೆ ಮಹಾಪರ್ವತ ಇದೆ. ಅದುವೇ ಹಿಮಾಲಯ.

ಈ ದೇಶವನ್ನು 'ಭರತ ಖಂಡ' 'ಹಿಂದುಸ್ಥಾನ' 'ಇಂಡಿಯಾ' ಎಂದು ಕರೆಯುವರು.ನಮ್ಮ ದೇಶದ ವಿಸ್ತಾರ ೩೩ ಲಕ್ಷ ಚದರ ಕಿಲೋಮೀಟರುಗಳು. ಇದು ಕಾಶ್ಮೀರದಿಂದ ಕನ್ಯಾಕುಮಾರಿ, ಪಂಜಾಬದಿಂದ ಮಣಿಪುರದವರೆಗೆ ಹಬ್ಬಿದೆ.





IV. ಕೆಳಗಿನ ಪದ್ಯಭಾಗ 'ಗೂಡಿನಿಂದ ಬಾನಿನಡೆಗೆ' ಓದಿಕೊಂಡು, ಕೊಟ್ಟಿರುವ  
ಬಹುಆಯ್ಕೆ ಪ್ರಶ್ನೆಗಳಿಗೆ ಉತ್ತರಿಸಿ.

1x5=5

ಗೂಡಿನಿಂದ ಬಾನಿನಡೆಗೆ  
ಹಕ್ಕಿ ಹಾರಿತು  
ರೆಕ್ಕೆ ಬಡಿದು ಬಡಿದು ಹಕ್ಕಿ  
ಮೇಲಕೇರಿತು

ಮೇಲ ಮೇಲಕೇರಿ ಹಕ್ಕಿ  
ಕೆಳಗೆ ನೋಡಿತು  
ಹಳ್ಳ-ಕೊಳ್ಳ ಹಸಿರು ಬೆಟ್ಟ  
ಕಂಡು ಹಾಡಿತು

ಏನು ಅಂದ ಏನು ಚಂದ  
ಗೂಡಿನಾಚೆಗೆ  
ಗೂಡು ತೊರೆದು ಹಾರಬೇಕು  
ನಿತ್ಯಬಾನಿಗೆ

ಸಗ್ಗ ಸುಖವು ಕಂಡ ಹಾಗೆ  
ಹಿಗ್ಗಿ ಆಡಿತು  
ಆಡಿ ಆಡಿ ಹಕ್ಕಿ ಮರಳಿ  
ಗೂಡು ಸೇರಿತು

ಅಮ್ಮ ಮರಳಿ ಮನೆಗೆ ಬರಲು  
ಹಿಗ್ಗಿ ಹೇಳಿತು  
ಆಡಿ ಬಂದೆ ಗೂಡಿನಾಚೆ  
ಎಂದು ನಕ್ಕಿತು

ತೀರಲಿಲ್ಲ ಕಂದ ನೀನು  
ನೋಡು ತಾಣವು  
ಬೆಳೆದ ಮೇಲೆ ತಿಳಿವುದಾಗ  
ಜಗದ ಲೀಲೆಯು



ಪ್ರಶ್ನೆಗಳು:

೧.ಗೂಡಿನಿಂದ ಹಕ್ಕಿಯು \_\_\_\_\_ಹಾರಿತು

ಅ) ನಾಡಿನೆಡೆಗೆ ಆ) ಬಾನಿನೆಡೆಗೆ ಇ) ಭೂಮಿಯಕಡೆಗೆ ಈ) ಮನೆಯಕಡೆಗೆ

೨.ಮೇಲಕೇರಿದ ಹಕ್ಕಿ ಹಳ್ಳಕೊಳ್ಳ ಹಸಿರುಬೆಟ್ಟ ಕಂಡು.....

ಅ) ಹೆದರಿತು ಆ) ಬೆವರಿತು ಇ) ಕಿರುಚಿತು ಈ) ಹಾಡಿತ್ತು

೩.ಗೂಡಿನಾಚೆಗಿನ ಚಂದ ಕಂಡು ಹಕ್ಕಿಗೆ \_\_\_\_\_ಸುಖ ಕಂಡಂತಾಯಿತು.

ಅ) ಸಗ್ಗ ಆ) ಜಗದ ಇ) ಮನ ಈ) ನರಕ

೪. ಬೆಳೆದ ಮೇಲೆ ತಿಳಿಯುವುದು.....

ಅ) ದೇವರಲೀಲೆ ಆ) ಜಗದಲೀಲೆ ಇ) ಬಾಲಲೀಲೆ ಈ) ಸ್ನೇಹಿತರಲೀಲೆ

೫.'ಗೂಡಿನಾಚೆ ಆಡಿಬಂದ' ಎಂದು ಮರಿಹಕ್ಕಿ ಹೇಳಿದ್ದು.....

ಅ) ಸೋದರಹಕ್ಕಿಗೆ ಆ) ಅಮ್ಮನಿಗೆ ಇ) ಮರಗಳಿಗೆ ಈ)ಪ್ರಾಣಿಗಳಿಗೆ

(ಅನ್ವಯಿಕ ವ್ಯಾಕರಣ ಮತ್ತು ಪಠ್ಯಪೂರಕ ಅಧ್ಯಯನ)=೨೦ ಅಂಕಗಳು

V. ಕೆಳಗಿನ ಪ್ರಶ್ನೆಗಳಿಗೆ ನಾಲ್ಕು ಉತ್ತರಗಳನ್ನು ಕೊಡಲಾಗಿದೆ. ಅವುಗಳಲ್ಲಿ ಸರಿಯಾದ ಉತ್ತರವನ್ನು ಆರಿಸಿ ಬರೆಯಿರಿ. 1x10

೧.'ಸಿಪಾಯಿ'- ಈ ಪದದ ಸಮಾನಾರ್ಥಕ ಪದವಿದು.....

ಅ) ಹಿಂದು ಆ) ಸಂಕೇತ ಇ) ಘನತೆ ಈ) ಸೈನಿಕ

೨.'ಹಗಲು' - ಈ ಪದದ ವಿರುದ್ಧ ಪದ.....

ಅ) ಮುದುಡು ಆ) ಇರುಳು ಇ) ಪುಣ್ಯ ಈ) ನವೀನ

೩. ಕಾವೇರಿ ನದಿಯು ಜುಳುಜುಳು ಹರಿಯುತ್ತದೆ. ಈ ವಾಕ್ಯದಲ್ಲಿರುವ ಅನುಕರಣಾವ್ಯಂಜನ ಪದ

ಅ) ಕಾವೇರಿ ಆ) ನದಿಯು ಇ) ಜುಳುಜುಳು ಈ) ಹರಿಯುತ್ತದೆ

೪. ಲೆಕ್ಕಾಚಾರ: ಸಜಾತೀಯ ಸಂಯುಕ್ತಾಕ್ಷರ: ಪ್ರಯೋಗ: \_\_\_\_\_

ಅ) ಅಲ್ಪಪ್ರಾಣ

ಆ) ಮಹಾಪ್ರಾಣ

ಇ) ಅವರ್ಗೀಯ ವ್ಯಂಜನ

ಈ) ವಿಜಾತೀಯ ಸಂಯುಕ್ತಾಕ್ಷರ

೫. 'ತಾಯಿ' ಶಬ್ದದ ಬಹುವಚನ ರೂಪ....

ಅ) ತಾಯಂದಿರು ಆ) ತಾಯಿಯರು ಇ) ತಾಯಿಗಳು ಈ) ತಾಯವ್ವ

೬. 'ಗಳೆಯು' ಎನ್ನುವುದರ ಸ್ತ್ರೀಲಿಂಗ ರೂಪ.....

ಅ) ಗಳೆಯಳು ಆ) ಗಳತಿಗಳು ಇ) ಗಳತಿ ಈ) ಗಳತಿಯಂದಿರು

೭. 'ಗೂಡಿನಾಚೆ' ಈ ಪದವನ್ನು ಬಿಡಿಸಿದಾಗ.....

ಅ) ಗೂ + ಆಡಿನಾಚೆ ಆ) ಗೂಡಿನ + ಆಚೆ ಇ) ಗೂ + ಆಚೆ ಈ) ಗೂಡಿ + ಆಚೆ

೮. ಅಯ್ಯೋ! ಎಷ್ಟು ದೊಡ್ಡ ಹಾವು! - ಈ ವಾಕ್ಯದಲ್ಲಿರುವ ಲೇಖನಚಿಹ್ನೆ.....

ಅ) ಪ್ರಶ್ನಾರ್ಥಕ ಆ) ಆಶ್ಚರ್ಯಸೂಚಕ ಇ) ಅರ್ಥವಿರಾಮ ಈ) ಅಲ್ಪವಿರಾಮ

೯. 'ನೋವು + ಅನ್ನು' - ಈ ಪದವನ್ನು ಕೂಡಿಸಿ ಬರೆದಾಗ.....

ಅ) ನೋಯನ್ನು ಆ) ನೋಮನ್ನು ಇ) ನಾಮನ್ನು ಈ) ನೋವನ್ನು

೧೦. 'ಕಣಜಗಳು' - ಪದ್ಯದಲ್ಲಿರುವಂತೆ ಈ ಪದದ ಪ್ರಾಸಪದ.....

ಅ) ಹವಳಗಳು ಆ) ಗುಡಿಯಲಿ ಇ) ತುಂಬಿಹುದು ಈ) ಅರಿಯುತ್ತ



ಸಂಖ್ಯೆ

VI. ಕೆಳಗಿನವುಗಳನ್ನು ಸೂಚನೆಯಂತೆ ಬರೆಯಿರಿ.

1x5=5

- ೧. 'ಸುಂದರ' - ಕೊಟ್ಟಿರುವ ಪದವನ್ನು ಬಳಸಿ ಸ್ವಂತವಾಕ್ಯ ಮಾಡಿ.
- ೨. ಒಗ್ಗಟ್ಟಿನಲ್ಲಿ \_\_\_\_\_ (ಗಾದೆ ಮಾತನ್ನು ಪೂರ್ಣ ಮಾಡಿ)
- ೩. ಶಿಕ್ಷಕರು ಗಣಿತವನ್ನು ಬೋಧಿಸಿದರು. - ಈ ವಾಕ್ಯದಲ್ಲಿರುವ ಕ್ರಿಯಾಪದವನ್ನು ಗುರುತಿಸಿ.
- ೪. ಮನೆಯನ್ನು ಕ್ರಿಸ್‌ಮಸ್ ಸಿಂಗರಿಸುತ್ತಾರೆ ಹಬ್ಬಕ್ಕೆ. - ಕೊಟ್ಟಿರುವ ವಾಕ್ಯವನ್ನು ಸರಿಯಾಗಿ ಜೋಡಿಸಿ ಬರೆಯಿರಿ.
- ೫. ರಾಮನಗರವು ಒಂದು ಹಳ್ಳಿ. - ಕೊಟ್ಟಿರುವ ವಾಕ್ಯದಲ್ಲಿ ರೂಢನಾಮವನ್ನು ಗುರುತಿಸಿ ಬರೆಯಿರಿ.

VII. ಕೆಳಗಿನ ಪ್ರತಿಯೊಂದು ಪ್ರಶ್ನೆಗಳಿಗೆ ನಾಲ್ಕು ಉತ್ತರಗಳನ್ನು ಕೊಡಲಾಗಿದೆ. ಅವುಗಳಲ್ಲಿ ಸರಿಯಾದ ಪದವನ್ನು ಆರಿಸಿ ಬರೆಯಿರಿ. 1x5=5

- ೧. ಬೇಡನು ಪಾರಿವಾಳಗಳಿಗೆ \_\_\_\_\_ ಆಸೆಯನ್ನು ತೋರಿಸಿದನು.
  - ಅ) ಹಣ್ಣುಗಳ ಆ) ತಿಂಡಿಗಳ ಇ) ಕಾಳುಗಳ ಈ) ತರಕಾರಿಗಳ
- ೨. ಪಾರಿವಾಳಗಳು ಬಲೆಸಹಿತ \_\_\_\_\_ ಇಳಿದವು.
  - ಅ) ಮನೆಯ ಸಮೀಪ ಆ) ನಗರಗಳ ಸಮೀಪ ಇ) ನದಿಯ ಸಮೀಪ ಈ) ಬೆಟ್ಟದ ಸಮೀಪ
- ೩. ಬೇಡನು ಹಾಕಿದ ಬಲೆಯಿಂದ ಸಿಕ್ಕಿ ಹಾಕಿಕೊಂಡಿದ್ದು .....
  - ಅ) ಜಿಂಕೆಗಳು ಆ) ಪಾರಿವಾಳಗಳು ಇ) ಆನೆಗಳು ಈ) ಹುಲಿಗಳು
- ೪. 'ಎಲ್ಲರೂ ಕೂಡಿ ಒಮ್ಮೆಲೆ ಹಾರಿಬಿಡಿ' - ಎಂದು ಪಾರಿವಾಳಗಳಿಗೆ ಹುರಿದುಂಬಿಸಿದ್ದು...
  - ಅ) ಬೇಡ ಆ) ಇಲಿ ಇ) ಕಾಗೆ ಈ) ಗುಬ್ಬಚ್ಚಿ
- ೫. ಇಲಿಗಳು \_\_\_\_\_ ಸಹಾಯದಿಂದ ಬಲೆಯನ್ನು ಕತ್ತರಿಸಿ ಪಾರಿವಾಳಗಳನ್ನು ಬಿಡಿಸಿದವು.
  - ಅ) ಹಲ್ಲುಗಳಿಂದ ಆ) ಉಗುರುಗಳ ಇ) ಬಾಲದಿಂದ ಈ) ಕಾಲುಗಳ

ಭಾಗ-ಬಿ

(ಬರವಣಿಗೆ ಕೌಶಲ್ಯ) = ೧೨ ಅಂಕಗಳು

VIII. ಅಕ್ಕನ ಮದುವೆಗಾಗಿ ಎರಡು ದಿನ ರಜೆಬೇಕೆಂದು ಕೇಳುತ್ತಾ, ನಿಮ್ಮ ತರಗತಿಯ ಶಿಕ್ಷಕ/ಶಿಕ್ಷಕಿಗೊಂದು ರಜಾ ಪತ್ರ ಬರೆಯಿರಿ. 4

IX. ಸುಳಿವು ಪದಗಳನ್ನು ಬಳಸಿ, ಕೊಟ್ಟಿರುವ ಕಥೆಯನ್ನು ಪೂರ್ಣಮಾಡಿ. 4  
ಸುಳಿವು-(ಆಸೆ, ಹುಳಿ, ಮತ್ತೆಮತ್ತೆ, ಹಸಿವು-ಬಾಯಾರಿಕೆ, ಸಂತೋಷ, ಬೇಸಿಗೆಕಾಲ, ಒಂದು, ದ್ರಾಕ್ಷಿತೋಟ)

ಒಂದು ಕಾಡಿನಲ್ಲಿ ನರಿಯಿತ್ತು. ಆ ನರಿಯು ದಿನವೆಲ್ಲಾ ಕಾಡಿನಲ್ಲಿ ಸುತ್ತಾಡುತ್ತಾ ಕಾಲ ಕಳೆಯುತ್ತಿತ್ತು. \_\_\_\_\_ವಾಗಿದ್ದ ಕಾರಣ ಅದಕ್ಕೆ \_\_\_\_\_ಯಾಯಿತು. ಅಲ್ಲಿ ದಾರಿಯಲ್ಲಿ ಏನು ಸಿಗಲಿಲ್ಲ, ಮುಂದೆ ಹೋಗುತ್ತಿದ್ದಂತೆ \_\_\_\_\_ಕಂಡಿತು. ನರಿಗೆ ಬಹಳ \_\_\_\_\_ವಾಯಿತು. ಆದರೆ ದ್ರಾಕ್ಷಿಗೊಂಚಲು ಬಹಳ ಮೇಲೆ ಇದ್ದುದರಿಂದ \_\_\_\_\_ಸಲ ಎಗರಿತು ಸಿಗಲಿಲ್ಲ. \_\_\_\_\_ಪ್ರಯತ್ನ ಮಾಡಿತು. ಆದರೆ ಅದರ \_\_\_\_\_ಪೂರೈಸಲಿಲ್ಲ. ಮನಸ್ಸಿನಲ್ಲಿಯೇ ದ್ರಾಕ್ಷಿಯು \_\_\_\_\_ಯೆಂದು ಹೊರಟುಹೋಯಿತು.

X. ಕೆಳಗೆ ಕೊಟ್ಟಿರುವ ವಿಷಯಗಳಲ್ಲಿ ಯಾವುದಾದರೂ ಒಂದು ವಿಷಯವನ್ನು ಕುರಿತು ಪ್ರಬಂಧ ಬರೆಯಿರಿ. 4

೧. ನನ್ನ ನೆಚ್ಚಿನ ಪಕ್ಷಿ.

೨. ನಿಮ್ಮ ನೆಚ್ಚಿನ ಹಬ್ಬ.

೩. ಶಿಕ್ಷಕರ ದಿನಾಚರಣೆಯ ಮಹತ್ವ



(ಪಠ್ಯಗಳ ಅಧ್ಯಯನ)=೨೮ ಅಂಕಗಳು

XI. ಕೆಳಗಿನ ಪ್ರಶ್ನೆಗಳಿಗೆ ಒಂದು ವಾಕ್ಯದಲ್ಲಿ ಉತ್ತರಿಸಿ.

1x4=4

೧. ಕನ್ನಡದ ನುಡಿಯಲ್ಲಿ ಏನು ತುಂಬಿದೆ?

೨. ನವಿಲಿಗೆ ಭಾರತದಲ್ಲಿ ಯಾವ ಗೌರವ ಲಭಿಸಿದೆ?

೩. ಪಾಣಿನಿಯ ಗುರುವಿನ ಹೆಸರೇನು?

೪. ಸಾಂತಾಕ್ರಾಜ್ ಮಕ್ಕಳಿಗೆ ಯಾವ ರೀತಿಯ ಋಷಿ ನೀಡುತ್ತಾನೆ?

XII. ಈ ಕೆಳಗಿನ ಪ್ರಶ್ನೆಗಳಿಗೆ ಎರಡು-ಮೂರು ವಾಕ್ಯಗಳಲ್ಲಿ ಉತ್ತರಿಸಿ.

2x4=8

೧. ದೇಶದ ರಕ್ಷಣೆಗಾಗಿ ಮಾಡಿದ ನಾಲ್ಕು ವೀರ ಯೋಧರ ಹೆಸರುಗಳನ್ನು ಬರೆಯಿರಿ.

೨. ಕವಿಯು ಶರಣರ ವಚನಗಳನ್ನು ಮತ್ತು ದಾಸ ಸಾಹಿತ್ಯವನ್ನು ಯಾವ ರೀತಿ ವರ್ಣಿಸಿದ್ದಾರೆ.

೩. ಗುರುಗಳು ಪಾಣಿನಿಗೆ ವಿದ್ಯೆ ನೀಡಲು ಏಕೆ ಮನಸ್ಸು ಮಾಡಿದರು?

೪. ನವಿಲಿನ ಗರಿಯ ವಿಶೇಷತೆಗಳೇನು?

XIII. ಈ ಮಾತನ್ನು ಯಾರು-ಯಾರಿಗೆ ಹೇಳಿದರು?

2x2=4

೧. "ಅವನ ಕೈಯಲ್ಲಿ ವಿದ್ಯಾರೇಖೆಯಿಲ್ಲ, ವಿದ್ಯೆ ಹತ್ತುವುದಿಲ್ಲ."

೨. "ಗುರುಗಳೇ ನನ್ನ ಕೈಯಲ್ಲಿ ವಿದ್ಯಾರೇಖೆ ಮೂಡಿದ ನೋಡಿ!"

XIV. ಈ ಕೆಳಗಿನ ಪ್ರಶ್ನೆಗಳಿಗೆ ೩-೪ ವಾಕ್ಯಗಳಲ್ಲಿ ಉತ್ತರಿಸಿ.

3x4=12

೧. ನಮ್ಮ ರಾಷ್ಟ್ರಧ್ವಜದ ವಿಶೇಷತೆಗಳೇನು?

೨. ಪುಣ್ಯ ಕೋಟಿಯ ಕಥೆಯು ಏನನ್ನು ತಿಳಿಸುತ್ತದೆ?

೩. ಗಂಡು ನವಿಲಿನ ವಿಶೇಷತೆ ಏನು? ನವಿಲು ವಾಸಿಸುವ ಸ್ಥಳಗಳಾವುವು?

೪. ದೀಪಾವಳಿ ಹಬ್ಬವನ್ನು ಹೇಗೆ ಆಚರಿಸುತ್ತಾರೆ?



**SINDHI HIGH SCHOOL**  
**HALF YEARLY EXAMINATION (2023-24)**  
**SUBJECT - Science**

Class: V

Date: 05/10/2023

Number of printed sides: 4

Marks: 80

Reading Time: 15mins

Writing Time: 2hrs 15mins

**GENERAL INSTRUCTIONS:**

- This Question paper has 4 Sections A-D
- All Questions are compulsory.
- Answer all the questions and write neatly.

**SECTION - A**

1. Choose and write the correct options

( $\frac{1}{2} \times 10 = 5$ )

- i) The part of the food that is not digested by the body is called \_\_\_\_\_  
a) fats                      b) vitamins                      c) roughage                      d) proteins
- ii) The soft porous igneous rock which contains air bubbles.  
a) limestone                      b) pumice                      c) granite                      d) basalt
- iii) Liquids that dissolve in water are called \_\_\_\_\_ liquids.  
a) soluble                      b) opaque                      c) immiscible                      d) miscible
- iv) The organ for movement in the given animal.



- a) tentacles                      b) tubefeet                      c) flippers                      d) fins
- v) The dangerous disease caused by the saliva of a dog bite.  
a) beri beri                      b) rabies                      c) typhoid                      d) jaundice
- vi) The ore from which iron metal is extracted.  
a) bauxite                      b) pyrite                      c) haematite                      d) slate
- vii) A duck and frog move with the help of \_\_\_\_\_  
a) flippers                      b) webbed feet                      c) fins                      d) legs



- viii) The communicable disease spread by aedes mosquito.
  - a) asthma
  - b) malaria
  - c) dengue
  - d) measles
- ix) The ability of the body to fight against diseases
  - a) immunity
  - b) vaccine
  - c) nutrition
  - d) strength
- x) The temperature at which water changes to ice is called
  - a) melting point
  - b) boiling point
  - c) freezing
  - d) freezing point

(1×5=5)

**2. Analogy**

- i) bees: \_\_\_\_\_ :: porcupine : quill
- ii) \_\_\_\_\_ : anaemia :: iodine : goitre
- ii) fracture: sling :: \_\_\_\_\_ : tourniquet
- iv) atoms of same kind: element :: atoms of different kind : \_\_\_\_\_
- v) granite : feldspar :: \_\_\_\_\_ : quartz

(1×5=5)

**3. Name the following**

- i) The process by which living things produce individuals of their own kind-
- ii) The breathing organ of the given organism



- iii) The temperature at which a liquid changes to a gas-
- iv) Any 2 P's of First aid-
- v) The metamorphic rock formed from limestone-

(1×5=5)

**4. Give 2 examples**

- i) Diseases caused by virus
- ii) Types of animals based on their feeding habits
- iii) Monocotyledons
- iv) Sedimentary rocks
- v) Miscible liquids in water

(1×5=5)

**5. Define**

- i) Mineral
- ii) Habitat
- iii) Communicable disease
- iv) Germination
- v) Sprain

**6. Give reason**

(1×2=2)

- i) Minerals are called as non renewable resources
- ii) Animals migrate from one place to another

7. What happens when

(1×2=2)

i) We do not follow safety rules.

ii) Water vapour is cooled.

(2 × 5 =10)

SECTION -B

8. List any 2 properties of a liquid .

(2)

9..i)What are nutrients?

(1)

ii)Why are proteins needed by our body?

(1)

(2)

10. How are igneous rocks formed?

(2)

11. List the first aid given for nose bleeding in a person.

(1)

12 i) What is hibernation?

(1)

ii) Give two examples of animals that hibernate.

(3 × 7 =21)

SECTION -C

(3)

13. Mention the steps followed for cultivation of crops in agriculture.

(2)

14.i) Differentiate between nocturnal and diurnal animals. Give an example for each.

(1)

ii)What is moulting?

15.i) How does a coconut seed disperse

(1)

(1)

ii) Mention names of any two seeds dispersed by animals .

(1)

iii)What do you understand by 'dispersal of seeds'?

(1)

16.i)Why is an ostrich called as a flightless bird?

(1)

ii) List the adaptations which helps a bird to fly. {any 2}

(1)

17.i) Define the term 'solution'?

(1)

ii) Name any two types of solutions.

(1)

iii)Water is called as a "universal solvent". Why?

(½×6=3)

18. Fill in the blanks.

Name of nutrient	Sources	Deficiency disease
1. Vitamin A	Spinach, carrot, milk	(a)
2. _____ (b)	Milk, cheese, sunlight	Rickets
3. _____ (c)	Vegetable oils	Muscle cramps
4. Vitamin C	_____ (d)	_____ (e)
5. _____ (f)	Green leafy vegetables	Excess bleeding from wounds

19.i) Draw and label the internal structure of a bean seed.

(2)

ii) Identify the given picture .

(1)



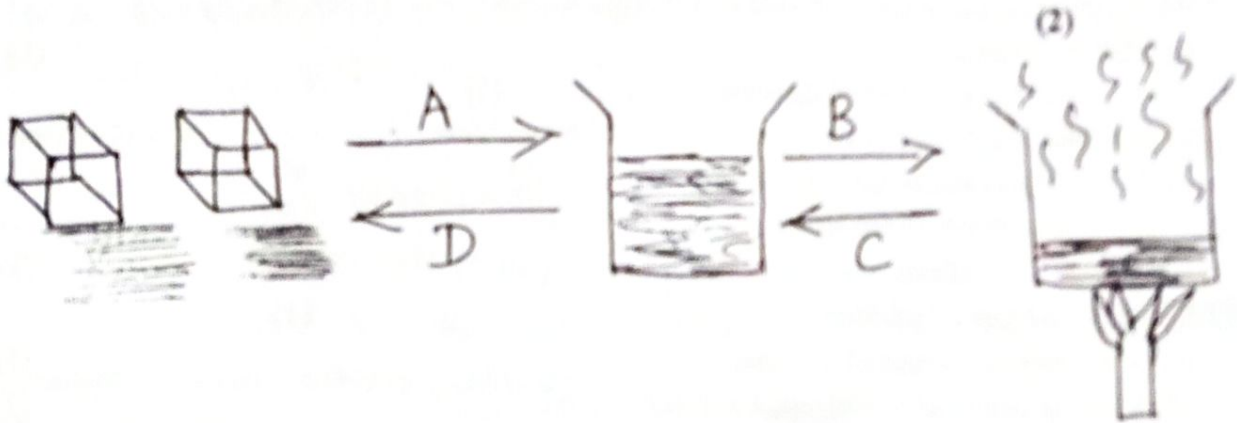


Mention how new plants can grow from it.

SECTION -D

(5 × 4=20)

- 20i) What is 'Pasteurization'? Give an example. (2)
- ii) Write a short note on 'Preventive measures to control spread of communicable diseases' (3)
21. There was a fire in the seventh floor of a building.
- i) List the different reasons which could cause the fire. (3)
- ii) Mention any 2 ways by which the fire could be put off. (2)
22. i) Petroleum is also called as 'black gold'. Give reason. (1)
- ii) Explain the formation of petroleum. (2)
- iii) Write names of any 2 products extracted from petroleum and mention their uses. (2)
23. i) Differentiate between physical and chemical changes (2 points for each)  
Give an example for each. (3)
- ii) Label the processes involved during changes in the state of matter A,B,C,D





SINDHI HIGH SCHOOL, BENGALURU  
HALF YEARLY EXAMINATION - (2023-24)  
Subject: Social Science

Class: 5

Date: 9-10-2023

Number of printed sides: 4

Marks: 80

Timing: 8:00 to 10:45am

Reading time: 8:00 to 8:15am

Writing time: 8:15 to 10:45am

General Instructions

Read the following instructions carefully and strictly follow them :

The question paper consists of XI mains . Each question specifies the marks it carries.

Questions I – IV carries 1 mark .

Question V – VII carries 2 marks .

Question VIII carries 3 marks.

Question IX carries 4 marks.



Question X carries 5 marks.

Question XI is a map question that carries 5 marks.

All questions are compulsory.

		(1x8=8)
1.	Choose the correct option –	
1	The amount of moisture present in the atmosphere is called _____ a) air b) breeze c) humidity d) sticky	1
2.	Who left a huge impression on Hemu Kalani ? a) father b) mother c) brother d) uncle	1
3.	A series or chain of mountains is called _____ a) mountain range b) peak c) summit d) hills	1
4.	DRC has _____ type of climate. a) humid b) equatorial c) dry d) monsoon	1
5.	Out of respect Sindhi's addressed Hemu Kalani as the _____ a) Bhagat Singh of Sindh b) brave c) little lad d) leader	1
6	Jackets made of fur to which hoods are attached to cover their heads are called _____ a) mittens b) coat c) parkas d) boots	1



7	Saudi Arabia's highest point is _____ peak. a) Al Taif b) JabalSawad c) Abha d)An Nafud	1																																																																								
8	Spear like weapon used in hunting whales and large fish is called _____. a) harpoonsb) axe c) bow d) arrow	1																																																																								
II	<b>Match the following-</b>	(1x4=4)																																																																								
	1. Cassava a)Continental climate 2. Mineral deposit b)Nomads 3. Delhi c) Root crop 4. Bedouins d) Plateaus	4																																																																								
III.	<b>Analogy -</b>	(1x4=4)																																																																								
1	Huge pieces of ice : Iceberg ::land permanently under ice :	1																																																																								
2	Mountains: _____ :: plains : level land.	1																																																																								
3	DRC: torrid zone :: Greenland : _____	1																																																																								
4	Cool air from sea : Sea breeze :: _____ : Land breeze.	1																																																																								
IV.	Riya visited Greenland and found various types of animals, search the animals in the given grid:	(1x4=4)																																																																								
	<table border="1"> <tr><td>M</td><td>I</td><td>S</td><td>M</td><td>U</td><td>S</td><td>K</td><td>O</td><td>X</td></tr> <tr><td>R</td><td>E</td><td>I</td><td>N</td><td>D</td><td>E</td><td>E</td><td>R</td><td>H</td></tr> <tr><td>G</td><td>E</td><td>O</td><td>G</td><td>R</td><td>A</td><td>P</td><td>H</td><td>Y</td></tr> <tr><td>I</td><td>M</td><td>L</td><td>O</td><td>T</td><td>L</td><td>W</td><td>Q</td><td>A</td></tr> <tr><td>L</td><td>J</td><td>I</td><td>G</td><td>T</td><td>R</td><td>V</td><td>N</td><td>P</td></tr> <tr><td>M</td><td>D</td><td>G</td><td>J</td><td>N</td><td>D</td><td>G</td><td>V</td><td>X</td></tr> <tr><td>H</td><td>U</td><td>S</td><td>K</td><td>I</td><td>E</td><td>S</td><td>J</td><td>K</td></tr> <tr><td>D</td><td>J</td><td>M</td><td>B</td><td>D</td><td>I</td><td>T</td><td>K</td><td>L</td></tr> </table>	M	I	S	M	U	S	K	O	X	R	E	I	N	D	E	E	R	H	G	E	O	G	R	A	P	H	Y	I	M	L	O	T	L	W	Q	A	L	J	I	G	T	R	V	N	P	M	D	G	J	N	D	G	V	X	H	U	S	K	I	E	S	J	K	D	J	M	B	D	I	T	K	L	
M	I	S	M	U	S	K	O	X																																																																		
R	E	I	N	D	E	E	R	H																																																																		
G	E	O	G	R	A	P	H	Y																																																																		
I	M	L	O	T	L	W	Q	A																																																																		
L	J	I	G	T	R	V	N	P																																																																		
M	D	G	J	N	D	G	V	X																																																																		
H	U	S	K	I	E	S	J	K																																																																		
D	J	M	B	D	I	T	K	L																																																																		
V.	Identify the picture and answer the following question -	(2x2=4)																																																																								
1.	 <p>a) Identify the person and name him. b) Which school did he acquire his higher education?</p>	2																																																																								
2.		2																																																																								

	a) Name the animal shown in the picture. b) Mention the unique features about this animal?	
VI	Name the following:	(2x2=4)
1.	Old mountains with lower slopes and rounded peak _____	2
2.	Hot deserts in the world _____	2
VII.	Give reason:	(3x2=6)
1.	Water transport is an important means of transport in DRC.	3
2.	Camel is called the "Ship of desert".	3
VIII.	Answer the following: -	(3x3=9)
1.	Raj informed Ram that Greenland is a country in frigid zone, Ram wanted to know the location of Greenland help him to understand the location better.	3
2.	Paul and his friends visited villages of Saudi Arabia they found some permanent settlements. Give the correct reason for these permanent settlements.	3
3.	Gigi visited Mount Abu and the western desert, these two places are on same latitude but have different temperature can you help Gigi to solve his confusions.	3
IX.	Case Study:	(4x3=12)
1.	Plains are suitable for agriculture as many rivers flow through them. The rivers which flow down from mountains carry sand and silt and deposit these materials on their banks in the plains.	
a)	How are the plains useful?	1
b)	Name the ancient civilisation.	1
c)	Give reason: Plains are thickly populated.	2
2.	Wind affect the climate of a place. Winds coming from hot areas increase the temperature, and winds coming from cold regions lower the temperature of a place.	
a)	Why are the winds called rain bearing?	1
b)	Name the city of Meghalaya that gets heaviest rainfall in the world.	1
c)	Identify the port which is ice-free throughout the year.	1
d)	Define the term atmosphere.	1



3.	The Arabian Desert lies to the south west of the Arabian Peninsula. The country of Saudi Arabia occupies most of it. Saudi Arabia is in the Middle East and is the fifth largest country in Asia.							
a)	What do you understand by the term "Monarchy"?	1						
b)	Name the sea that lies to the west of Saudi Arabia.	1						
c)	Explain the climatic condition of Saudi Arabia.	2						
X	Answer the following:	(5x4=20)						
1.	a) Describe the three stages in the journey of a river. b) Write the difference between: Mediterranean climate and Monsoon climate.	3						
2.	Draw the diagram of 'Heat zones of the Earth' and describe its features.	2						
3.	Complete the given mind map:  <div style="text-align: center;"> <pre> graph TD     GL[GreenLand] --&gt; OL[Official Language]     GL --&gt; OS[Original Settlers]     GL --&gt; OR[Official religion]     GL --&gt; ND[National Day]     ND --- ND_line[ ]     ND --- CA[Capital]     CA --- CA_line[ ] </pre> </div>	(2+3=5)						
4.	a) Forest of DRC are uneconomical. - Give reason. b) Classify the following crops grown in DRC as food crop and cash crop. <div style="border: 1px solid black; padding: 5px; margin: 5px auto; width: fit-content;">Rice, cotton, sugarcane, tobacco.</div> <table border="1" style="margin: 5px auto; width: 80%; text-align: center;"> <thead> <tr> <th style="width: 50%;">Food Crop</th> <th style="width: 50%;">Cash Crop</th> </tr> </thead> <tbody> <tr> <td> </td> <td> </td> </tr> <tr> <td> </td> <td> </td> </tr> </tbody> </table>	Food Crop	Cash Crop					5
Food Crop	Cash Crop							
	c) Differentiate between Bantus and Pygmies.	1						
XI	Locate the following on the map of Saudi Arabia:	2						
	a) 2 Neighbouring countries in the north.	(1x5=5)						
	b) 2 Holy places	2						
	c) Capital of Saudi Arabia	1						

\*\*\*\*\*

Name: \_\_\_\_\_ Class : 5 A/B/C Roll no : \_\_\_\_\_

**SAUDI ARABIA**  
VECTOR MAP



25





**SINDHI HIGH SCHOOL, BENGALURU**  
Half Yearly Examination-[2023-24]  
Subject: Computer Science

Class: V  
Date: 11-10-23  
No of Sides: 2

Max Marks: 30  
Duration: 1hr 10 mins  
Reading Time: 10 mins  
Writing Time: 1 hr

(5×1=5)

**I. Fill in the blanks**

- \_\_\_\_\_ is the process of storing files and folders in an organised way.
- The merged document contains fields from the \_\_\_\_\_.
- \_\_\_\_\_ option is used to combine two or more cells.
- The name and address in every document is inserted in the \_\_\_\_\_.
- Software required to convert a high level program into machine language program is called as \_\_\_\_\_.

(5×½=2½)

**II. Write True or false for the following statements.**

- Operating system is an application software.
- Translators are used to control the flow of data.
- A sub folder cannot contain files.
- The data source contains the details of recipients.
- You can insert only rows in a table.

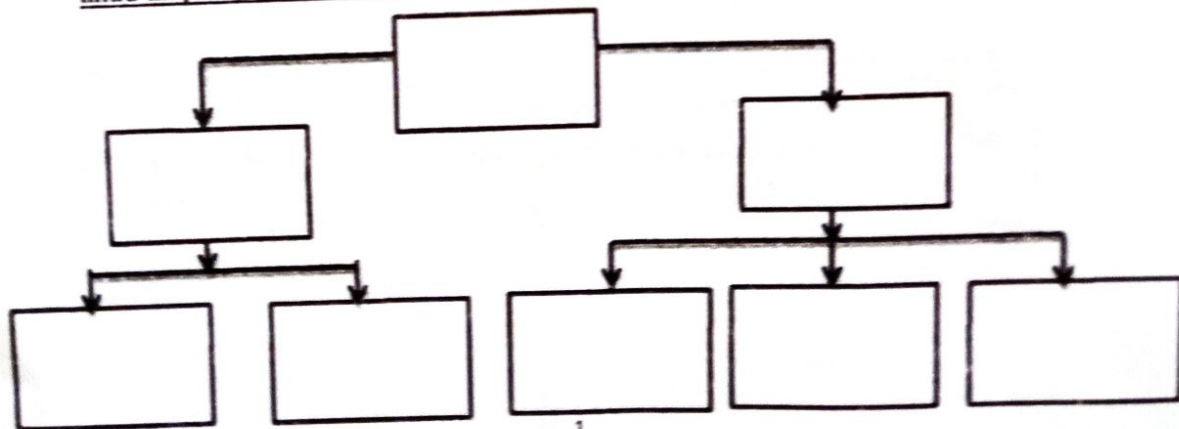
(5×½=2½)

**III. Match the following**

- |                         |                      |
|-------------------------|----------------------|
| 1) System software      | a) Folders and files |
| 2) Application software | b) Images            |
| 3) File Explorer        | c) Windows           |
| 4) Layout               | d) MS Word           |
| 5) Picture styles       | e) Merge cells       |

**IV. Complete The Mind map for Types of Softwares with proper examples. (Draw the mind map in you answer paper as per the layout given below.**

(10×½=5)



V. Label the parts of the file path shown below with the words given in the help box.

Folder                      Sub-folder                      Drive                      Filename                      (4×½=2)

C:\Rittu\Books\ch6-Features of File management.docx

VI. Application based questions

(3×1=3)

1. Ramya wants to locate a file in her computer. she does not remember the exact name but He can recall the first alphabet of the file name. which method of searching a file would be most suitable?
2. Jagraj is been asked to create a presentation on any three application softwares. Which software would you suggest her to create it
3. Riya has created a table in MS Word she wants to combine to cells of a row into a single cell which feature of MS Word will she use for the same?

VII. Name the appropriate software to perform the given tasks and specify its type.

Write the complete table in your answer sheet with answers

(10×½=5)

Sr.No	Task	Software	Type of software
1.	Enabling application software and hardware to communicate	Operating system	System Software
2.	Browsing the internet		
3.	Writing a letter MS Word		
4.	Sending an email		
5.	Mánages files and folders		
6.	Creating documents		

VIII. Answer the following questions..

1. What is a parent folder? 1M
2. What do you mean by the main document? 1M
3. Differentiate between Split cells and Merge cells. 2M
4. Name any two operating systems 1M